



# まえから なんばんめ?

アイスクリームやさんの ねつの なんばんめ?



## もんだい

- ① いちばん ちいさな どうぶつは  
まえから なんばんめ?
- ② いちばん せの たかい どうぶつは  
まえから なんばんめ?
- ③ あかい ぼうしの どうぶつは  
うしろから なんばんめ?
- ④ まえから 10ばんめの どうぶつは、  
うしろから かぞえると なんばんめ?




## リボンは だれの もの?

ならんで いる ひとたちの ことばを  
まえから じゅんばんに よんで、  
もちぬしを みつけよう。

わたしの <sup>ふた</sup>2リ うしろの  
ひとじゃない?

きっと うしろから  
2ばんめの この ものだよ。

うしろから 4ばんめの  
ひとが、こまって いるよ。



まえから  
3ばんめの  
この  
リボンかな?

おうちのかたへ

「ものの順番や位置は数で表せる」ということを知しましょう。まずは前後一方向へ並んだものから、数で指定された位置を見つけます。

こたえは 78ページだよ!